

بَنكُ أَسْئَلَةِ الْوَحْدَةِ الْعَاشِرَةِ

الصَّفُّ الثَّانِي

طَرَحُ الْأَعْدَادِ حَتَّى 1000 بِاسْتِعْمَالِ النَّمَاذِجِ وَالطَّرَائِقِ



اختر الإجابة الصحيحة لكل من الأسئلة من 1 إلى 8، وذلك بوضع علامة X داخل المربع المجاور للإجابة الصحيحة:

تعليمات

السؤال رقم (1)	2.2.1-2.2.3	الدرجة (1)
<p>مَا نَاتِجُ طَرَحِ الْجُمْلَةِ الْعَدَدِيَّةِ أَذْنَاهُ؟</p> <p>$430 - 100 = \dots\dots\dots$</p> <p><input type="checkbox"/> A 220</p> <p><input type="checkbox"/> B 330</p> <p><input type="checkbox"/> C 420</p>		

السؤال رقم (2)	2.2.1-2.2.3	الدرجة (1)
<p>مَا الْعَدَدِ النَّاقِصِ فِي الْجُمْلَةِ الْعَدَدِيَّةِ أَذْنَاهُ؟</p> <p>$245 - \dots\dots\dots = 235$</p> <p><input type="checkbox"/> A 10</p> <p><input type="checkbox"/> B 100</p> <p><input type="checkbox"/> C 115</p>		

السؤال رقم (3)	2.2.1-2.2.3	الدرجة (1)
<p>أَيِّ مِمَّا يَلِيَّ يَسَاوِي 924 مَطْرُوحًا مِنْهُ 100؟</p> <p><input type="checkbox"/> A 804</p> <p><input type="checkbox"/> B 914</p> <p><input type="checkbox"/> C $800 + 20 + 4$</p>		

السؤال رقم (4)	2.2.1-2.2.3	الدرجة (1)
<p>تُوجَدُ 225 تُفَّاحَةً، أَكَلُ طُلَّابِ الصَّفِّ الثَّانِي 100 تُفَّاحَةً مِنْهَا.</p> <p>مَا عَدَدِ التُّفَّاحَاتِ الَّتِي لَمْ تُؤْكَلْ؟</p>		
<p><input type="checkbox"/> A 115</p> <p><input type="checkbox"/> B 125</p> <p><input type="checkbox"/> C 325</p>		

السؤال رقم (5)	2.2.2	الدرجة (1)
<p>فِي مَعْرِضِ سَيَّارَاتٍ 319 سَيَّارَةً، 115 مِنْهَا حَمْرَاءُ.</p> <p>مَا عَدَدِ السَيَّارَاتِ الَّتِي لَيْسَتْ حَمْرَاءُ؟</p>		
<p><input type="checkbox"/> A 119</p> <p><input type="checkbox"/> B 215</p> <p><input type="checkbox"/> C 204</p>		

السؤال رقم (6)	2.2.2	الدرجة (1)															
<p>مَا نَاتِجُ طَرَحِ الْجُمْلَةِ الْعَدَدِيَّةِ أَدْنَاهُ؟</p>																	
<table border="1"> <thead> <tr> <th>مئات</th><th>عشرات</th><th>أحاد</th></tr> </thead> <tbody> <tr> <td><input type="text"/></td><td><input type="text"/></td><td><input type="text"/></td></tr> <tr> <td>5</td><td>7</td><td>8</td></tr> <tr> <td>2</td><td>6</td><td>4</td></tr> <tr> <td><input type="text"/></td><td><input type="text"/></td><td><input type="text"/></td></tr> </tbody> </table>			مئات	عشرات	أحاد	<input type="text"/>	<input type="text"/>	<input type="text"/>	5	7	8	2	6	4	<input type="text"/>	<input type="text"/>	<input type="text"/>
مئات	عشرات	أحاد															
<input type="text"/>	<input type="text"/>	<input type="text"/>															
5	7	8															
2	6	4															
<input type="text"/>	<input type="text"/>	<input type="text"/>															
<p><input type="checkbox"/> A 314</p> <p><input type="checkbox"/> B 415</p> <p><input type="checkbox"/> C 722</p>																	

السؤال رقم (7)	2.2.2	الدرجة (1)
<p>إِسْتَعْمَلَ بَائِعُ الزُّهُورِ 342 وَرْدَةً جَوْرِيَّةً وَ 526 زَهْرَةً تَوَلَّيْبَ فِي تَنْسِيقِ عَدَدٍ مِنَ الْبَاقَاتِ . بِكُمْ يَزِيدُ عَدَدُ زُهُورِ التَوَلَّيْبِ الَّتِي إِسْتَعْمَلَهَا عَنْ عَدَدِ الْوُرُودِ الْجَوْرِيَّةِ؟</p> <p>A 184 B 224 C 284</p>		

السؤال رقم (8)	2.2.2	الدرجة (1)
<p>يُسَاوِي إِرْتِفَاعُ مَبْنَى مَكْتَبِي 332 مِثْرًا . وَإِرْتِفَاعُ بُرْجِ سَكْنِي 208 أَمْتَارًا . بِكُمْ مِثْرًا يَزِيدُ إِرْتِفَاعُ الْمَبْنَى الْمَكْتَبِيِّ عَنْ إِرْتِفَاعِ الْبُرْجِ السَّكْنِيِّ؟</p> <p>A 124 B 134 C 136</p>		

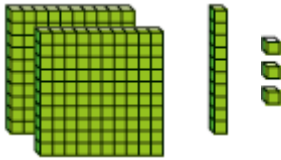


عند الإجابة على الأسئلة من 9 إلى 22، اكتب إجاباتك في المساحات المخصصة لذلك مع توضيح خطوات الحل:

تعليمات

2.2.1-2.2.3

السؤال رقم (9)



أ - جِدْ نَاتِجَ الطَّرْحِ مُسْتَعْمَلًا الْحِسَابِ الذِّهْنِيِّ.

10 مطروحاً من
100 مطروحاً من

وضّح عملك هنا

$$\underline{\hspace{2cm}} - 10 = \underline{\hspace{2cm}}$$

$$\underline{\hspace{2cm}} - 100 = \underline{\hspace{2cm}}$$

ب- يُوجَدُ 541 تَذَكُّرَةً سِينَمَا مَعْرُوضَةً لِلْبَيْعِ.

بِيعَتْ مِنْهَا 10 تَذَاكِرَ فَقَطْ.

ما عدد التّذَاكِرِ الْبَاقِيَةِ الْمَعْرُوضَةِ لِلْبَيْعِ؟

$$\dots\dots\dots - \dots\dots\dots = \dots\dots\dots$$



أ- اِسْتَعْمَلِ الْأَعْدَادُ الْمَكْتُوبَةَ عَلَى الْبِطَاقَاتِ لِكِتَابَةِ الْأَعْدَادِ النَّاقِصَةِ فِي مَسْأَلَةِ الطَّرْحِ أدْنَاهُ.

3	2	4	7
---	---	---	---

مِائَات	عَشْرَات	أَحَاد
		14
9	5	4
6	2	7
-		

أَطْرَحْ.

أَرَسِّمْ قَوَالِبَ الْقِيَمَةِ الْمَنْزِلِيَّةِ لِتَوْضِيحِ حَلِّي.

أَعِيدِ التَّجْمِيعُ إِذَا لَزِمَ الْأَمْرُ

مِائَات	عَشْرَات	أَحَاد
3	1	4
1	5	2
-		

مِائَات	عَشْرَات	أَحَاد

لدى جاسم 319 بطاقة كرة سلة، ولديّة 130 بطاقة كرة قدم.

بكم يزيد عدد بطاقات كرة السلة عن عدد بطاقات كرة القدم التي لديه؟

مئات	عشرات	أحاد

مئات	عشرات	أحاد



10 مَطْرُوحًا مِنْ
100 مَطْرُوحًا مِنْ

أ - جِدْ نَاتِجَ الطَّرْحِ مُسْتَعْمِلًا الْحِسَابِ الدِّهْنِيَّ

وضّح عملك هنا

$$\begin{array}{r} \underline{\quad\quad\quad} - \underline{\quad\quad\quad} = \underline{\quad\quad\quad} \\ \underline{\quad\quad\quad} - \underline{\quad\quad\quad} = \underline{\quad\quad\quad} \end{array}$$



10 مَطْرُوحًا مِنْ
100 مَطْرُوحًا مِنْ

ب - جِدْ نَاتِجَ الطَّرْحِ مُسْتَعْمِلًا الْحِسَابِ الدِّهْنِيَّ

$$\begin{array}{r} \underline{\quad\quad\quad} - \underline{\quad\quad\quad} = \underline{\quad\quad\quad} \\ \underline{\quad\quad\quad} - \underline{\quad\quad\quad} = \underline{\quad\quad\quad} \end{array}$$


	2.2.2	السؤال رقم (14)
<p>أَطْرَحِ بِاسْتِعْمَالِ الْحِسَابِ الذِّهْنِيِّ:</p> <p>719-10=....</p> <p>400-100=....</p> <p>520-100=....</p>		

	2.2.2	السؤال رقم (15)
<p>جِدِ الْعَدَدَ النَّاقِصَ فِي الْجُمْلَةِ الْعَدَدِيَّةِ أَذْنَاهُ.</p> <p>362-□=352</p> <p>801-□=701</p>		

	2.2.1-2.2.3	السؤال رقم (16)
<p>دَرَسَ جَاسِمٌ عَنِ النَّحْلِ.</p> <p>وَوَجَدَ أَنَّ النَّوْعَ الْأَوَّلَ مِنَ النَّحْلِ يُمَكِّنُهُ تَلْقِيحُ 955 نَبْتَةٍ كُلُّ يَوْمٍ.</p> <p>أَمَّا النَّوْعَ الْآخَرَ مِنَ النَّحْلِ فَيُلْقِحُ عَدَدًا مِنَ النَّبَاتَاتِ يَقُلُّ بِقُدَّارِ 100 نَبْتَةٍ عَمَّا يُلْقِحُهُ النَّوْعُ الْأَوَّلُ.</p> <p>مَا عَدَدُ النَّبَاتَاتِ الَّتِي يُلْقِحُهَا النَّوْعُ الثَّانِي مِنَ النَّحْلِ؟</p> <p>..... - =</p>		

..... نَبْتُهُ

السؤال رقم (17)	2.2.1-2.2.3
-----------------	-------------



أقيم سباق الركض في مدينة صغيرة.

10 من العدائين لم ينها السباق.

ما عدد العدائين الذين أتموا السباق؟

أتمج من خلال كتابة جملة عددية.

..... - =

..... عداء

السؤال رقم (18)	2.2.1-2.2.3
-----------------	-------------

جد ناتج الطرح مستعملاً الحساب الذهني.




10 مَطْرُوحًا مِنْ

100 مَطْرُوحًا مِنْ

_____ - 10 = _____

_____ - 100 = _____



أَطْرَحْ. أَرَسِّمْ قَوَالِبِ الْقِيَمِ الْمَنْزِلِيَّةِ لِتَوْضِيحِ حَلِّي. أَعِيدَ التَّجْمِيعُ إِذَا لَزِمَ الْأَمْرُ.

مِائَات	عَشْرَات	أَحَاد
5	4	6
2	7	1

مِائَات	عَشْرَات	أَحَاد

أَطْرَحْ. أَرَسِّمْ قَوَالِبِ الْقِيَمِ الْمَنْزِلِيَّةِ لِتَوْضِيحِ حَلِّي. أَعِيدَ التَّجْمِيعُ إِذَا لَزِمَ الْأَمْرُ.

مِائَات	عَشْرَات	أَحَاد
6	5	3
4	1	9

مِائَات	عَشْرَات	أَحَاد



لَدَى عَبْدِ الْعَزِيزِ 517 بِطَاقَةً كُرَّةِ سَلَّةٍ.

وَلَدَيْهِ 263 بِطَاقَةً كُرَّةِ قَدَمٍ.

بِكَمْ يَرِيدُ عَدْدُ بِطَاقَاتِ كُرَّةِ السَّلَّةِ عَنْ عَدْدِ بِطَاقَاتِ كُرَّةِ الْقَدَمِ الَّتِي لَدَيْهِ؟

مِائَات	عَشْرَات	أَحَاد

مِائَات	عَشْرَات	أَحَاد

..... بِطَاقَةً كُرَّةِ سَلَّةٍ أَكْثَرَ

فِي مَرْعَةٍ 319 حَيَوَانًا.

136 مِنْهَا خَيُْولٌ.

مَا عَدَدُ الْحَيَوَانَاتِ الَّتِي لَيْسَتْ مِنَ الْخَيُْولِ؟

مِائَات	عَشْرَات	أَحَاد

مِائَات	عَشْرَات	أَحَاد

..... مِنَ الْحَيَوَانَاتِ لَيْسَتْ مِنَ الْخَيُْولِ.



انتهت الأسئلة
نرجو لكم التوفيق

